



QUESTIONÁRIO 1 DE GEOGRAFIA PARA A PROVA

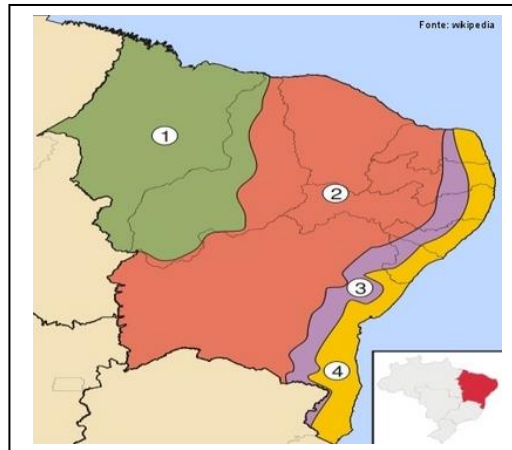
3º Bimestre

1) Caracterize as 4 sub-regiões Nordesteiras.



2) Observe a imagem abaixo e faça o que se pede:

AS SUB-REGIÕES NORDESTINAS



a) Nomeie cada uma das sub-regiões nordestinas.

1 - _____

2 - _____

3 - _____

4 - _____

2) Assinale a alternativa correta sobre o Agreste e o Meio-norte, sub-regiões do Nordeste do Brasil.

- a) O agreste corresponde a uma faixa de terras que se localiza entre o sertão semiárido e o Meio-norte.
- b) O agreste é a zona de menor densidade demográfica da região Nordeste em virtude de sua localização, distante das principais cidades litorâneas.
- c) No Meio-norte, as chuvas são variáveis, apresentando-se mais abundantes na porção sul, no contato com a Amazônia, e decrescendo para o norte, na direção do litoral semiárido.
- d) As salinas são a principal atividade produtiva do litoral maranhense, concentrando grande parte da produção brasileira de sal marinho.
- e) O extrativismo vegetal ligado ao babaçu e à carnaúba constitui uma importante atividade econômica do Meio-norte.

3) Um dos principais problemas do Nordeste é a seca, que periodicamente afeta as atividades agropecuárias da região, matando animais e plantações inteiras. Apesar de atingir todos os estados dessa região, a seca não atinge todas as sub-regiões nordestinas, estando presente apenas:

- a) no Meio-norte.
- b) no Sertão.
- c) no Agreste.
- d) na Zona da Mata.
- e) no Cerrado.

4) Dentre as grandes regiões brasileiras, o Nordeste é a região que apresenta os maiores contrastes e, em função do modo de ocupação e uso do solo, apresenta quatro sub-regiões bem distintas: Zona da Mata, Meio Norte, Agreste e Sertão.

Em relação às características econômicas específicas apresentadas por essas sub-regiões, relacione os itens abaixo:

- 1 – Zona da Mata
- 2 – Meio Norte
- 3 – Agreste
- 4 – Sertão

() Em grande parte dessa sub-região, predomina a pecuária extensiva de corte, destacando-se ainda o cultivo do algodão arbóreo, a produção de frutas em áreas irrigadas, principalmente na área dos pólos agroindustriais de Petrolina, Juazeiro e Vale do Açu.

() Destaca-se a pecuária extensiva de gado bovino bem como o extrativismo vegetal. O complexo mineiro-metalúrgico destaca-se ao longo da Estrada de Ferro Carajás.

() Economicamente, essa sub-região conserva a tradição do período colonial, tendo como uma de suas principais atividades a monocultura de cana-de-açúcar, e ainda possui como destaque a produção de petróleo, que alimenta o pólo petroquímico de Camaçari.

() Nessa sub-região, é marcante a presença de pequenas propriedades policultoras que se dedicam a culturas comerciais como café, algodão, sisal e gêneros alimentícios, destinados ao abastecimento dos centros urbanos da faixa litorânea.

A alternativa que contém a associação correta, quando lida de cima para baixo, é

- A) 4, 2, 1, 3.
- B) 3, 4, 2, 1.
- C) 1, 2, 4, 3.
- D) 4, 3, 2, 1.

5) Analise o mapa da divisão regional do Nordeste brasileiro a seguir.



Sobre as sub-regiões nordestinas, afirma-se que:

- I- O Meio Norte tem expansão de cultivos de soja e possui o extrativismo vegetal como importante fonte de renda.
- II- O Sertão apresenta elevada densidade demográfica e predomina produção sucroalcooleira para exportação.
- III- O Agreste contribui para o abastecimento alimentar de outras sub-regiões e tem preponderância de minifúndios policultores.
- IV- A Zona da Mata apresenta clima chuvoso no inverno e mantém baixa concentração fundiária.

Estão corretas apenas as afirmativas

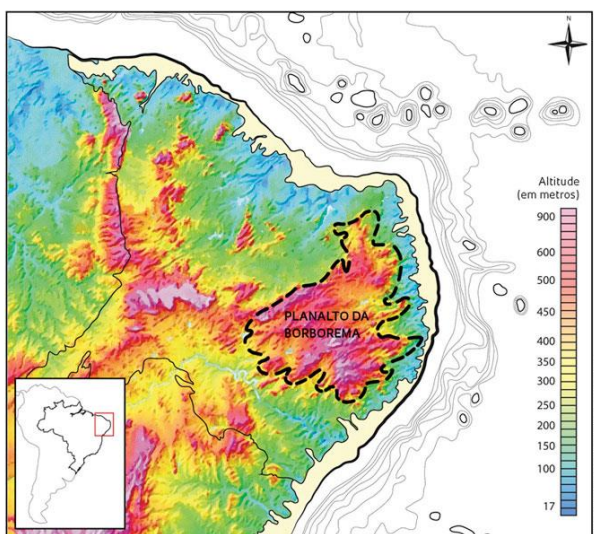
- a) I e III.
- b) I e IV.
- c) II e III.

6) Alguns estudos atribuem as origens do planalto ou serra da Borborema aos efeitos do clima. Ao longo de milhões de anos, as intempéries teriam moldado o relevo acidentado dessa região, formada pelas terras altas que dão um ar montanhoso a porções do interior de Pernambuco, Paraíba, Alagoas e Rio Grande do Norte.


Uma serra no Nordeste oriental

O planalto da Borborema tem altitude média de 500 metros e seus pontos mais elevados passam dos mil metros

Explique como o planalto da Borborema, localizado na região nordeste do Brasil, interfere no clima da região.



7) “O mito da Caatinga pobre em biodiversidade”.



Comente e justifique a frase acima.
